

Математика

Розділ 1. Числа першого десятка

Сьогодні  
28.07.2022

Урок  
№6



Лічимо від 1 до 10



Встало сонечко давно,  
Зазирнуло у вікно.  
На урок час поспішати,  
Математику вивчати.



Сьогодні  
28.07.2022

Психологічне налаштування на урок. Вправа - правила уроку «Дай мені 5».



Сьогодні  
28.07.2022

Вправа - правила уроку «Дай мені 5».



**РОТИК  
МОВЧИТЬ**



Сьогодні  
28.07.2022

Вправа - правила уроку «Дай мені 5».



Очі  
ДИВЛЯТЬСЯ





Руки, ноги не  
рухаються



Сьогодні  
28.07.2022

Вправа - правила уроку «Дай мені 5».

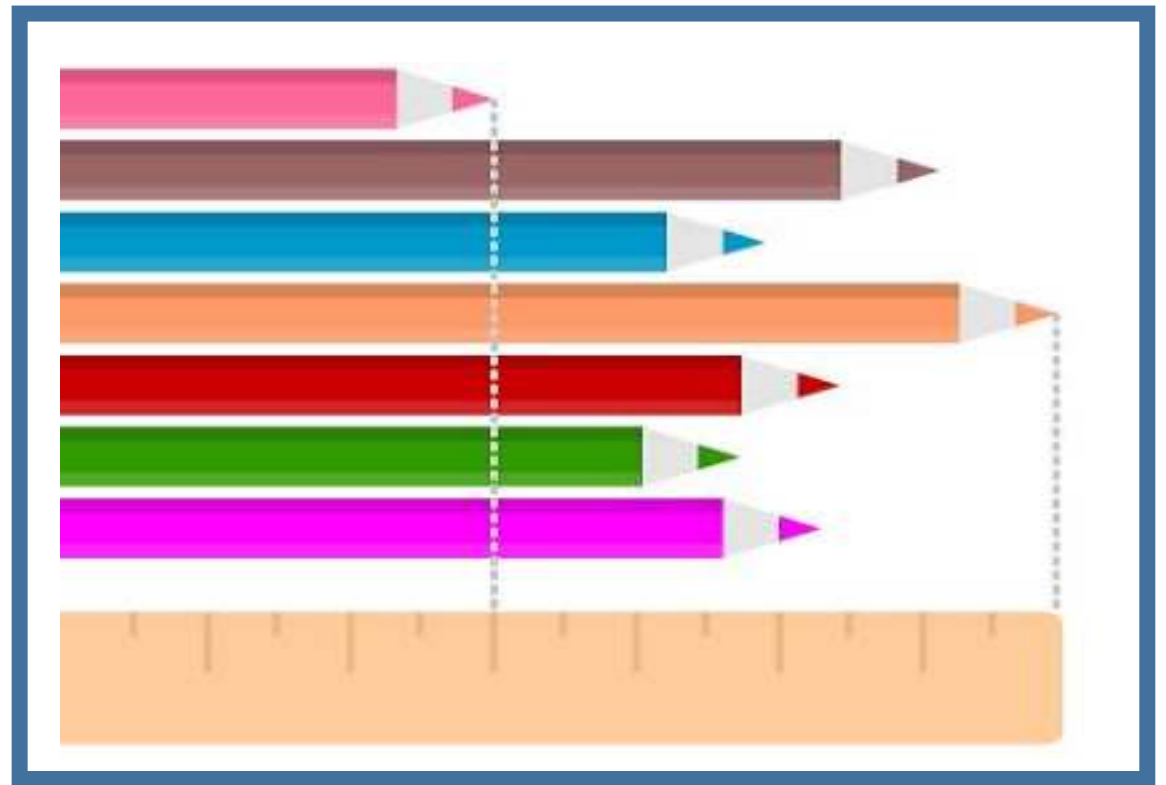


Голова  
працює

Дай мені 5



Розглянь об'єкти. Що в них спільне? Що відмінне? Полічи, скільки їх.



Довжина



Сьогодні  
28.07.2022

Розглянь об'єкти. Що в них спільне? Що відмінне? Полічи, скільки їх.



**Висота**

Розглянь об'єкти. Що в них спільне? Що відмінне? Полічи, скільки їх.



Ширина



- ❖ Об'єкти навколишнього середовища характеризуються такою властивістю, як кількість.
- ❖ Їх можна полічити.
- ❖ Людина навчилася рахувати у зв'язку з практичною необхідністю: треба було полічити здобич на полюванні, зібрані плоди тощо...





❖ Але прадавні люди не вміли записувати результати лічби — числа; вони користувалися зарубками на кістках тварин або деревині, креслили риси на стінах печер.

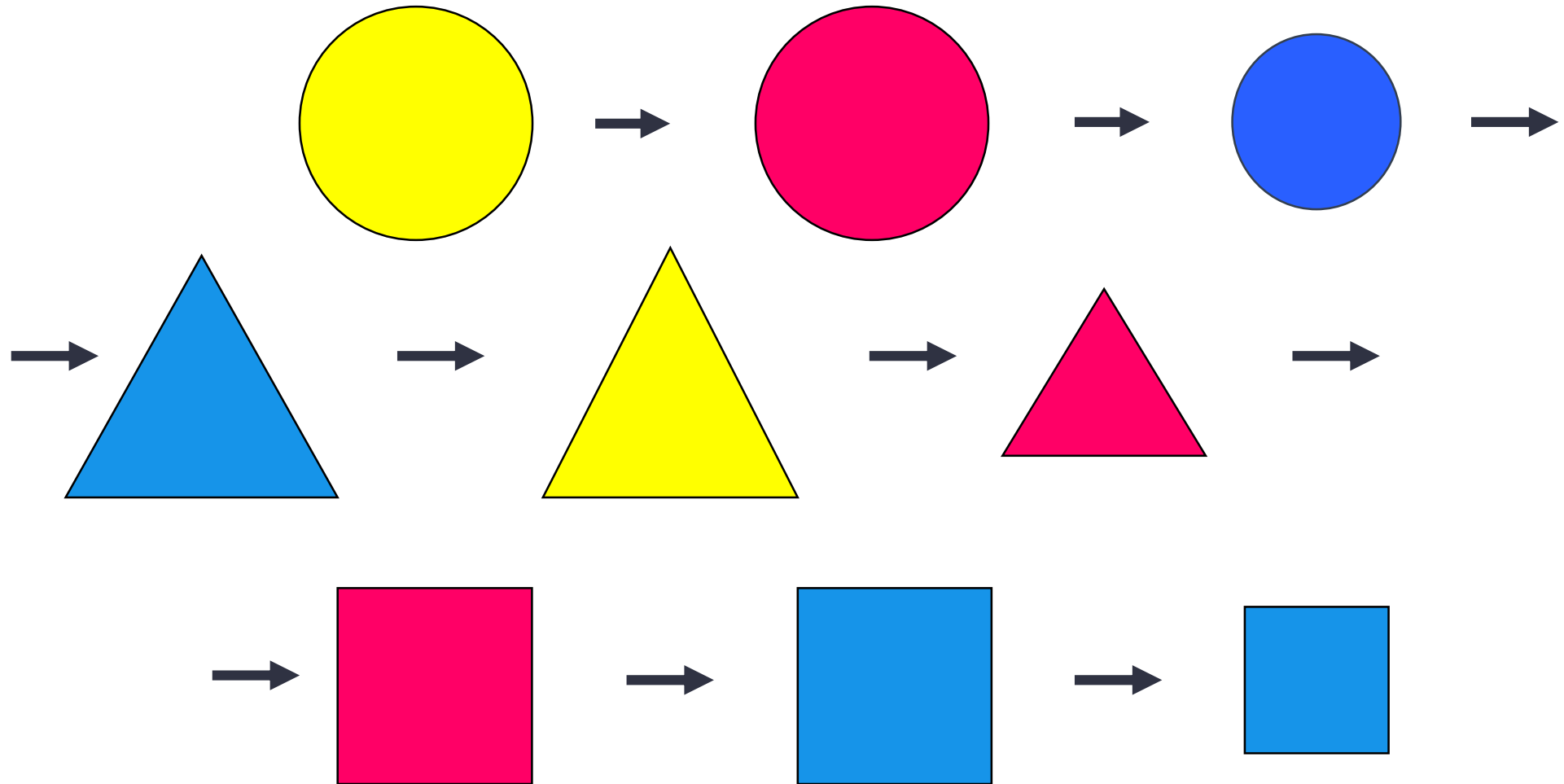




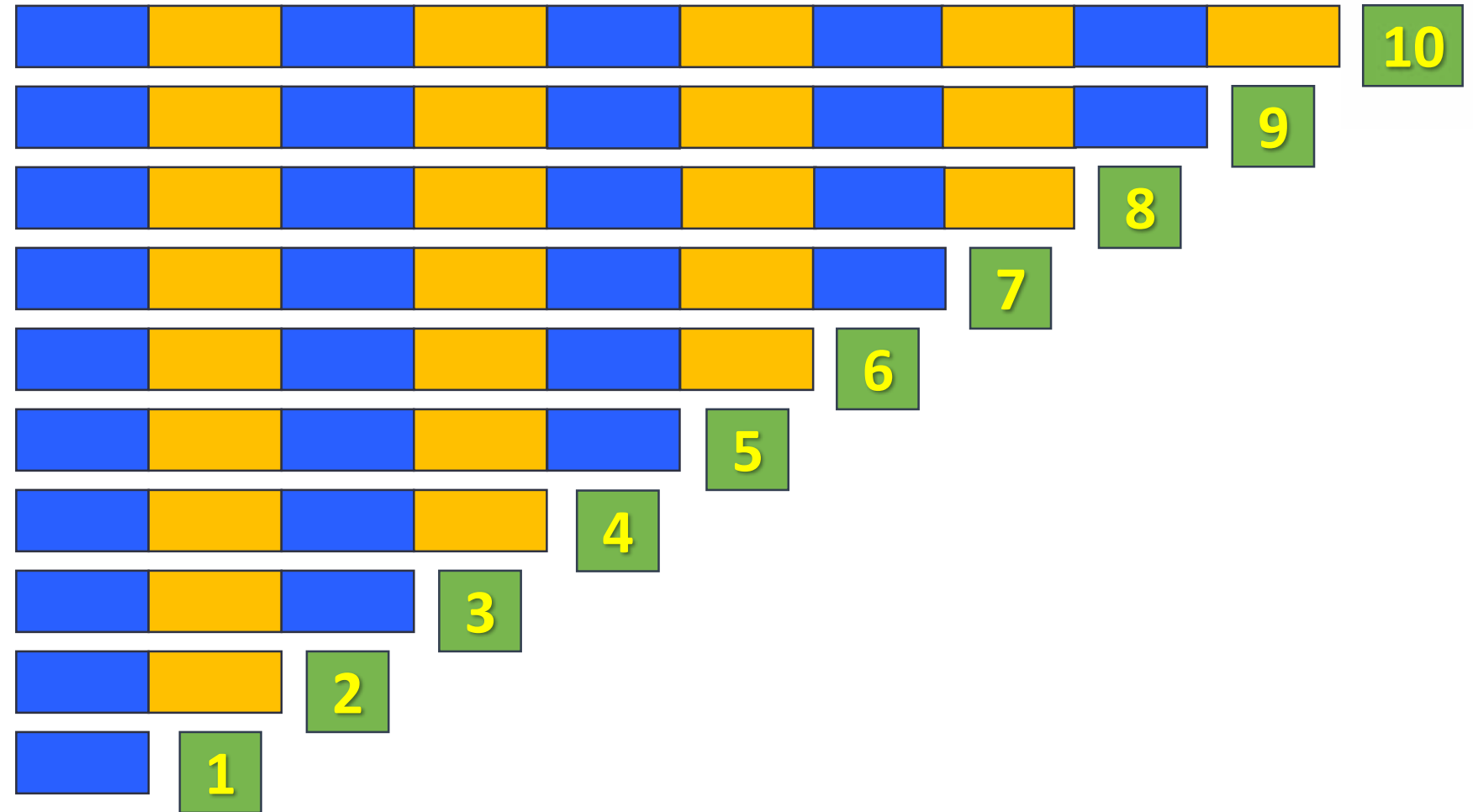
- ❖ Таким чином, добре знайомі вам цифри є образами тих записів, які застосовували прадавні люди для позначення чисел.
- ❖ Сьогодні ми будемо лічити предмети й згадаємо позначки — цифри, якими записують числа.







Завдання 1. На малюнку зображено арифметичні штанги. Де розташована найкоротша штанга? найдовша? Полічи смужки в кожній штанзі. Скільки смужок у найдовшій штанзі? у найкоротшій? Що цікавого можна помітити?





Правило. Числа записують за допомогою десяти цифр.



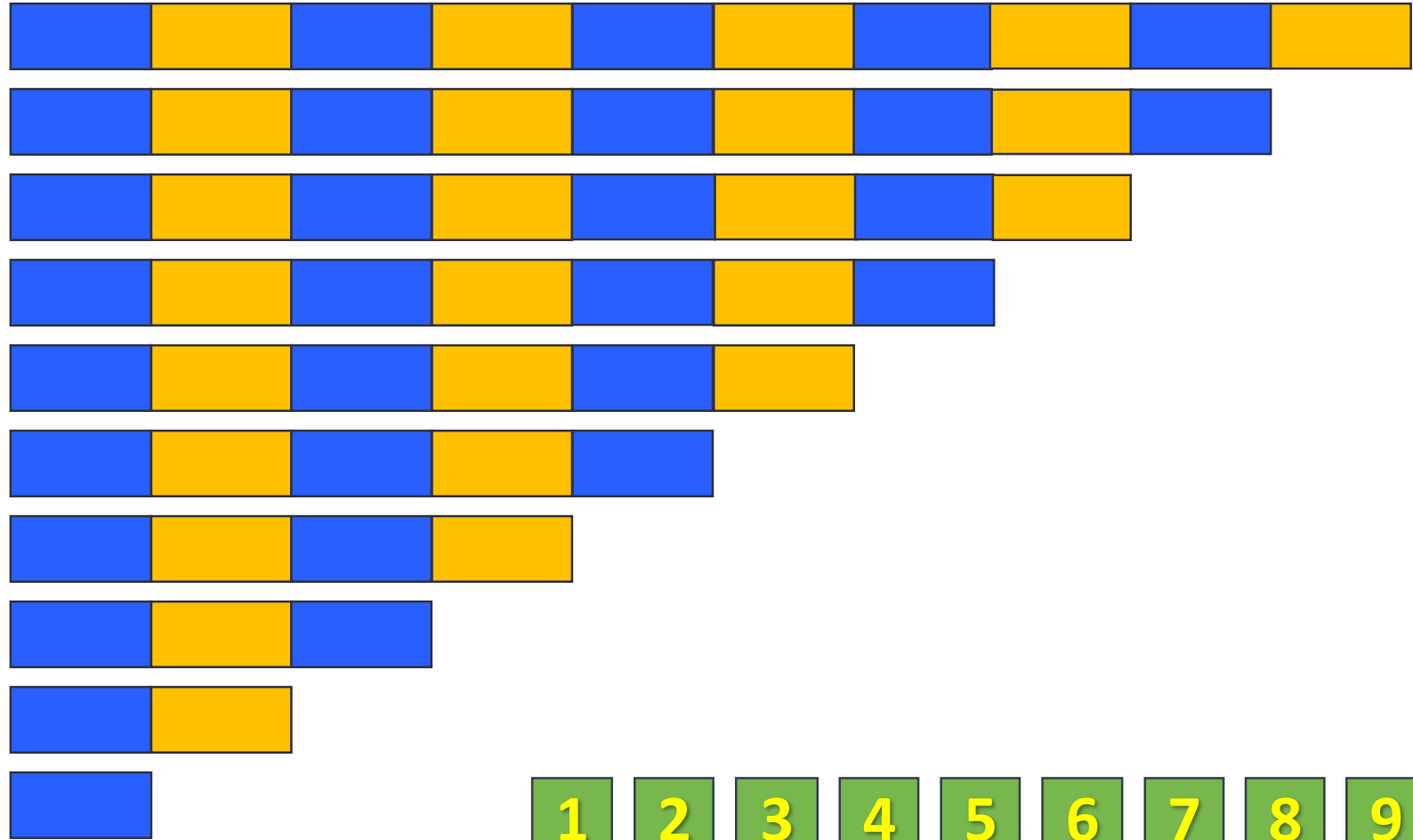
Щоб назвати кількість предметів, ми використовуємо числа один, два, три...  
Щоб позначити числа на письмі люди придумали спеціальні значки — цифри.

Числа записують за допомогою десяти цифр:

1 2 3 4 5 6 7 8 9 10


Сьогодні  
28.07.2022

Завдання 1. Перевір, чи правильно розкладено картки з числами.



- 1
- 2
- 3
- 4
- 5
- 6
- 7
- 8
- 9
- 10

Завдання 2. Попрацюй з арифметичними штангами.  
Рівень I (див. конспект).





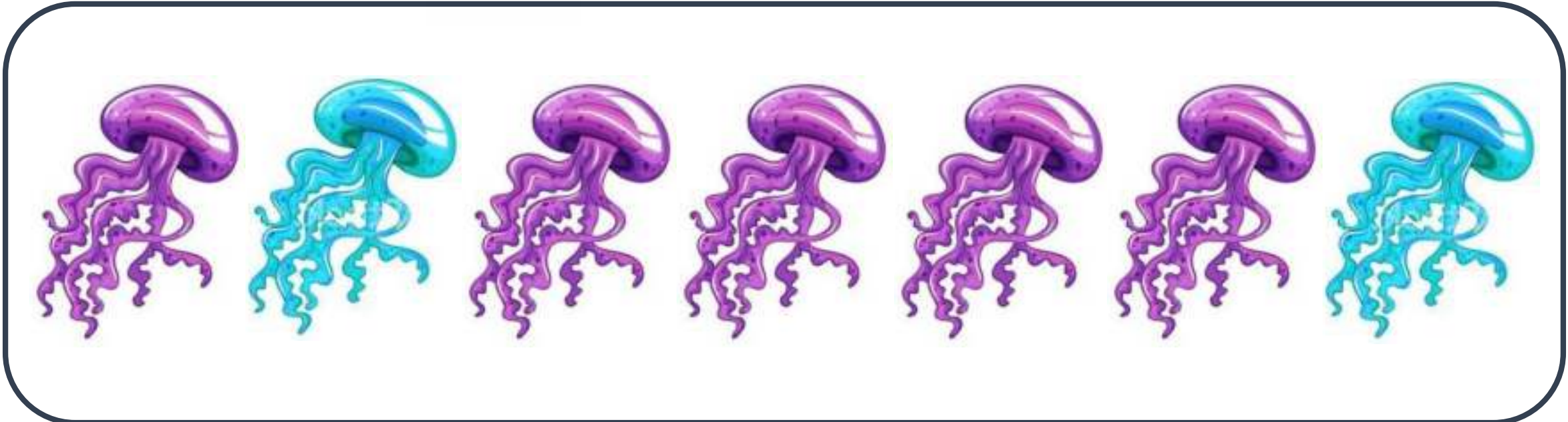


Сьогодні  
28.07.2022

Завдання 4. Розглянь малюнок. Поміркуй, що позначають числа 2 і 5.

2

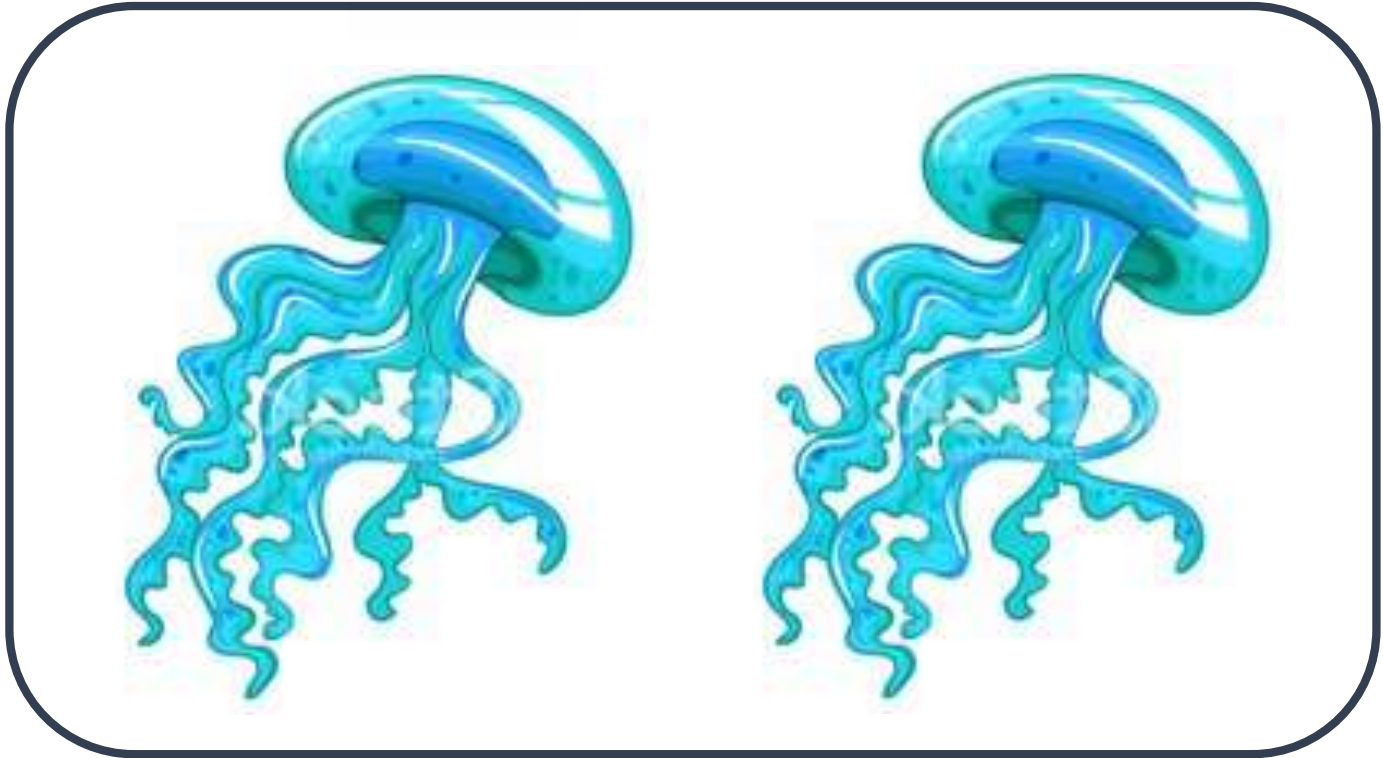
5



Завдання 4. Розглянь малюнок. Поміркуй, що позначають числа 2 і 5.

2

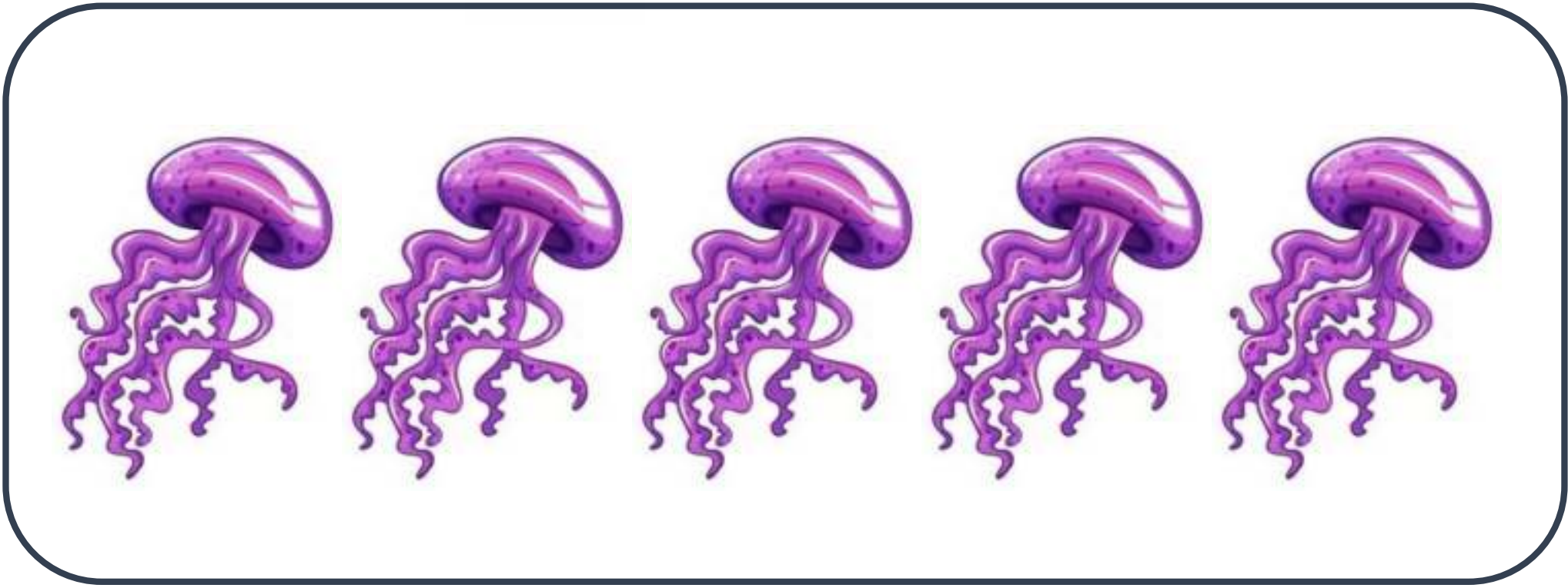
5



Завдання 4. Розглянь малюнок. Поміркуй, що позначають числа 2 і 5.

2

5






Завдання 5. Що змінюється в кожній групі фігур? Полічи фігури в кожній групі. Що спільного для всіх груп?

Колір

Форма



Розмір

Форма, колір

Однакова кількість

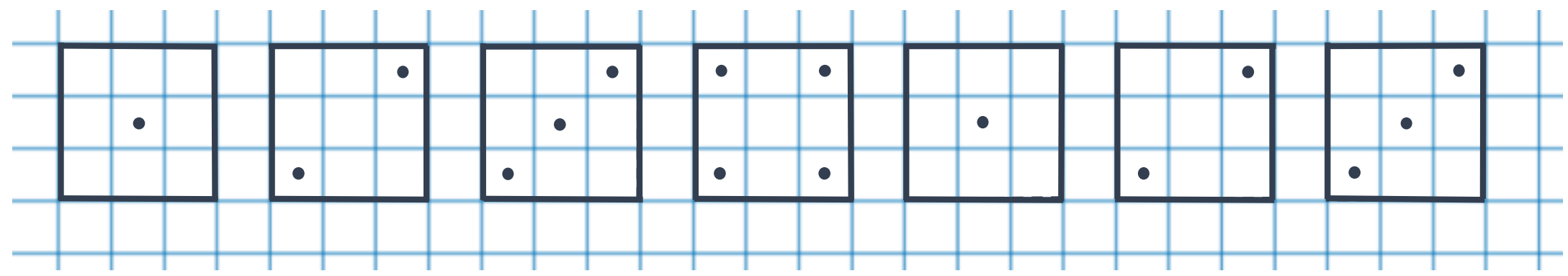


# РУХЛИВА

# ВПРАВА









Tracing practice on a blue grid background. The first row contains ten pairs of circles connected by a horizontal line. The second row contains a series of horizontal lines, each starting with a small black dot. The third row contains ten pairs of circles connected by a horizontal line, identical to the first row.



# РУХЛИВА

# ВПРАВА



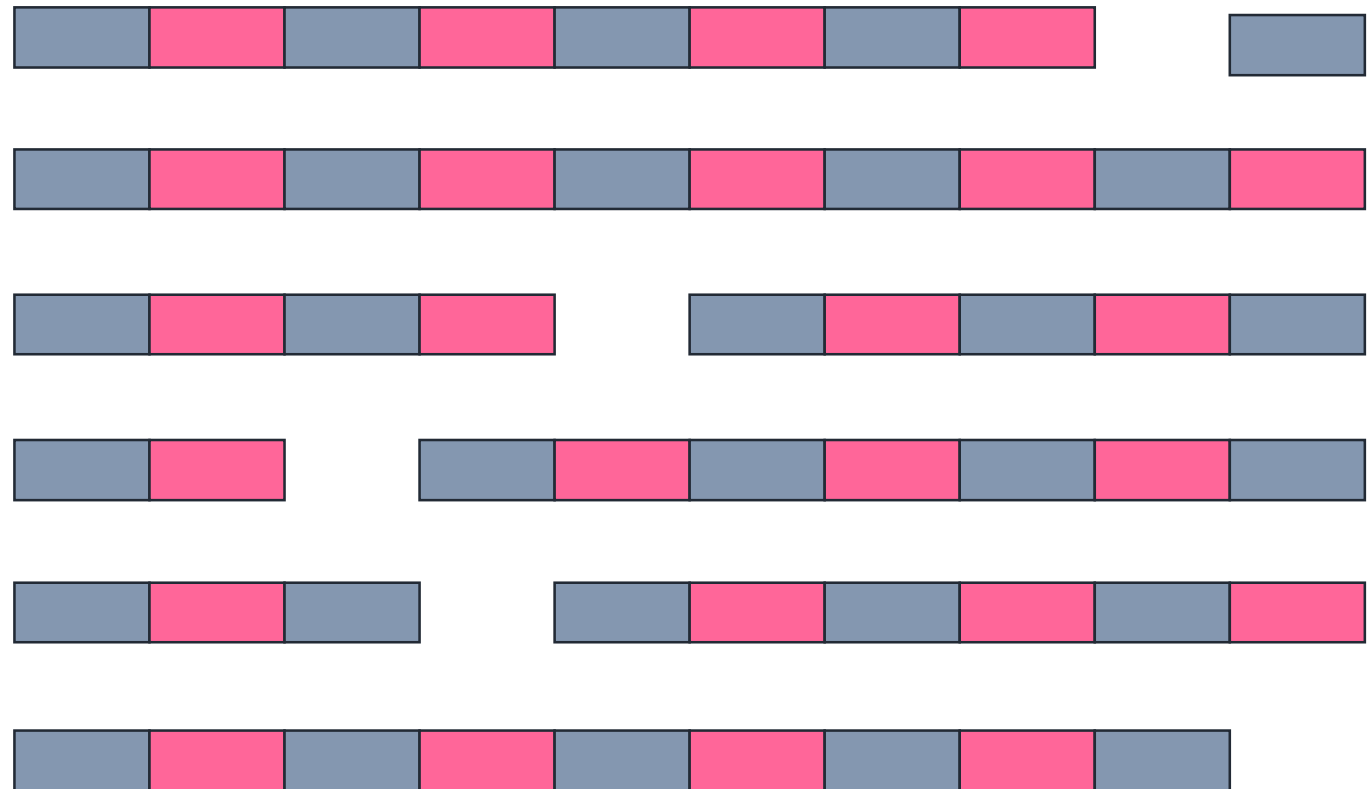
Сьогодні  
28.07.2022

Завдання 1. Попрацюйте з математичними матеріалами.



Сьогодні  
28.07.2022

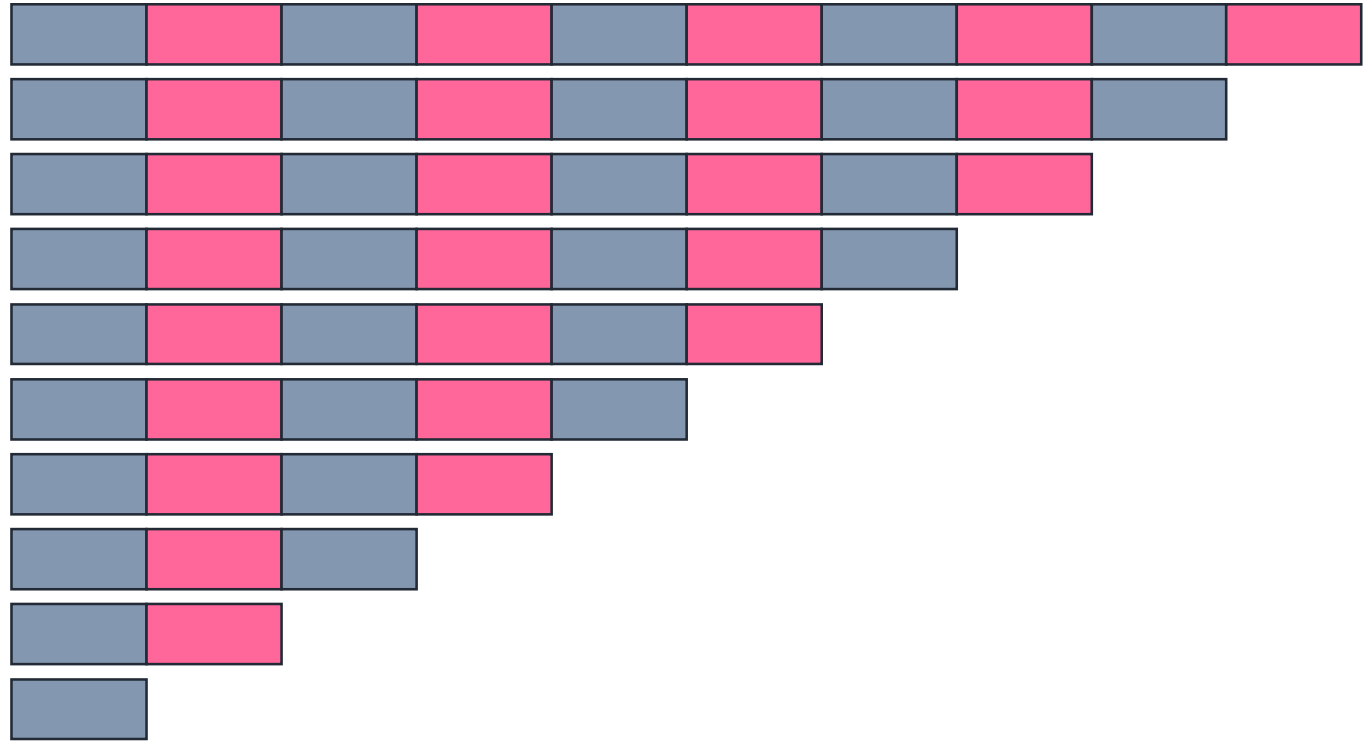
Завдання 2. Розклади арифметичні штанги. Полічи смужки на кожній штанзі. Розглянь малюнок і перевір, чи правильно покладено картки з числами.





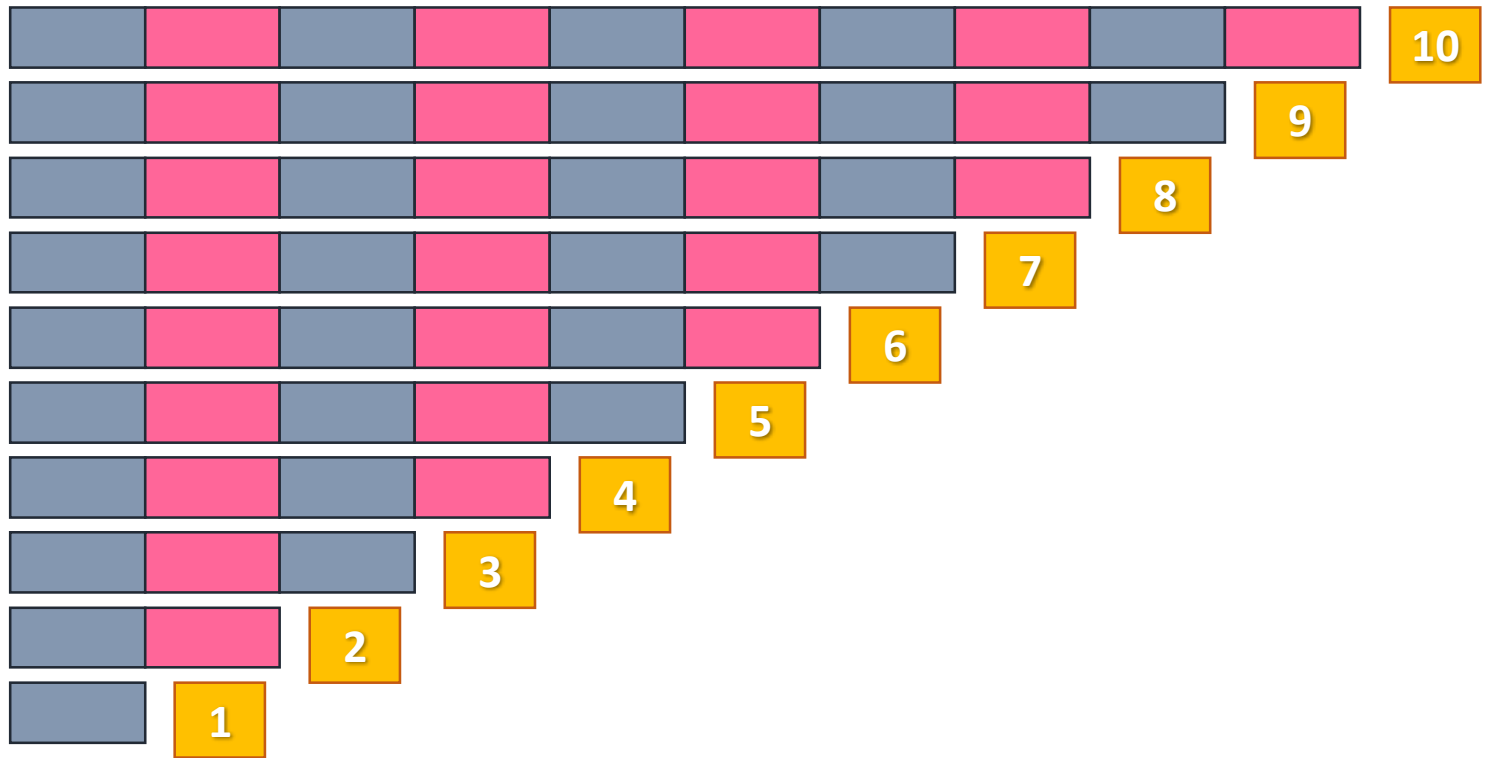
Сьогодні  
28.07.2022

Завдання 2. Розклади арифметичні штанги. Полічи смужки на кожній штанзі. Розглянь малюнок і перевір, чи правильно покладено картки з числами.



Сьогодні  
28.07.2022

Завдання 2. Розклади арифметичні штанги. Полічи смужки на кожній штанзі. Розглянь малюнок і перевір, чи правильно покладено картки з числами.



Завдання 3. Чи відповідає кількість зображених об'єктів числам?



3  
2  
5  
8  
6  
1  
6  
9  
4  
10

Завдання 4. Який відрізок найдовший? Який відрізок найкоротший? Які відрізки мають однакові довжини?



Найкоротший



Однаковий



Найдовший






Однаковий



Сьогодні  
28.07.2022


Лічба предметів. Скільки цеглинок на полі? Скільки червоних? Жовтих? Зелених? Синіх?



Полічи цифри на полі по порядку від 1 до 9.



Полічи цифри на полі по порядку від 9 до 1.



Сьогодні  
28.07.2022

Online завдання

Відскануй QR-код або  
натисни жовтий круг!







- ❖ **Що ви повторили на уроці? А про що дізналися?**
  - ❖ Що найбільше зацікавило?
- ❖ **У чому відмінність між числом і цифрою?**
- ❖ [Число одержуємо в результаті лічби предметів, а цифра — це позначка, якою позначають число на письмі.]
- ❖ **Що ви знаєте про цифри?**

Сьогодні  
28.07.2022

Рефлексія «Емоційна ромашка». Оберіть відповідну цеглинку LEGO

